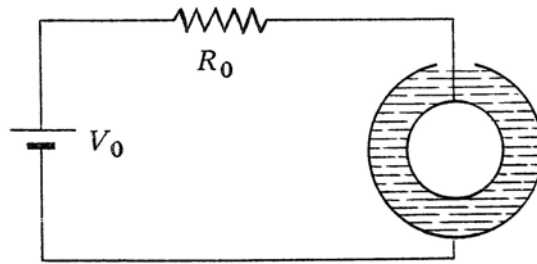


Problema N°. 23

Esercizio n. II.1.5 - Si consideri un sistema formato da un elettrodo sferico di raggio r_1 posto al centro di un recipiente, anch'esso, sferico e conduttore, di raggio interno r_2 . Lo spazio tra i due elettrodi è riempito di un liquido di resistività ρ , molto alta ma non infinita, e di costante dielettrica ϵ . Quando il sistema è inserito nel circuito rappresentato in figura, quale è l'energia elettrostatica che vi è immagazzinata?



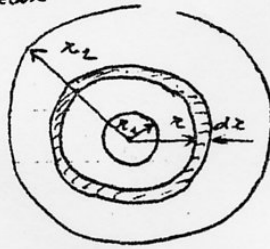
Soluzione

Poiché il sistema è un conduttore con conseguente il passaggio di corrente i

$$\text{Si ha: } i = \frac{V_0}{R_0 + R}$$

dove R è la resistenza del sistema sferico

Per determinare la resistenza R si consideri uno strato di spessore infinitesimo $r \rightarrow r + dr$



La resistenza, infinitesima, di tale strato sarà

$$dR = \rho \frac{dr}{4\pi r^2}$$

per cui la resistenza totale R sarà ottenuta da:

$$R = \int_{r_1}^{r_2} \rho \frac{dr}{4\pi r^2} = \frac{\rho}{4\pi} \int_{r_1}^{r_2} \frac{dr}{r^2} = \frac{\rho}{4\pi} \left[-\frac{1}{r} \right]_{r_1}^{r_2} = \frac{\rho}{4\pi} \frac{r_2 - r_1}{r_1 r_2}$$

La d. d. p. tra i due elettrodi verrà pertanto:

$$\Delta V = R i = \frac{V_0}{R_0 + R} R \quad \text{ed è nota}$$

Per determinare l'energia elettrostatica immagazzinata si può usare la relazione

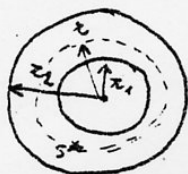
$$U = \frac{1}{2} C (\Delta V)^2$$

dove C è la capacità del condensatore sferico che vale

$$C = 4\pi\epsilon \frac{r_2 r_1}{r_2 - r_1}$$

per cui $U = \frac{1}{2} 4\pi\epsilon \frac{r_2 r_1}{r_2 - r_1} \left[V_0 \frac{R}{R_0 + R} \right]^2$

N.B. : Calcolo della capacità di un condensatore sferico



Applico alla superficie S^* il teorema di Gauss per il campo elettrico e denoto q la carica sulle armature

$$\oint_{S^*} \vec{E} \cdot \vec{n} dS = \frac{q}{\epsilon_0}$$

$$E 4\pi r^2 = \frac{q}{\epsilon_0}$$

$$E = \frac{q}{4\pi\epsilon_0 r^2}$$

Dalla relazione $E = -\text{grad} V \Rightarrow \Delta V = - \int_{r_1}^{r_2} E dr = - \frac{q}{4\pi\epsilon_0} \int_{r_1}^{r_2} \frac{dr}{r^2}$

che fornisce $\Delta V = \frac{q}{4\pi\epsilon_0} \frac{r_2 - r_1}{r_2 r_1}$

e quindi $C = \frac{q}{\Delta V} = 4\pi\epsilon_0 \frac{r_2 r_1}{r_2 - r_1}$

Naturalmente se tra le armature non c'è il vuoto la capacità è:

$$C = 4\pi\epsilon \frac{r_2 r_1}{r_2 - r_1}$$